



Information & Communication Technology Group

Unit Exam – MS Word

Grades: 10 &11

Time: 1 Hour

Name:.....

சரியான விடையைத் தெரிவுசெய்க

1.Drop cap வடிவங்கள் எத்தனை?

- a. 1 b. 2 c. 4 d. 6

2. Word Document ஐ save செய்யும் வழிமுறைகள் எத்தனை?

- a. 3 b. 4 c. 5 d. 6

3. Word இல் பயன்படுத்தக்கூடிய ஆகக்கூடிய Fontsize எது?

- a. 163 b. 1638 c. 16038 d. None of above

4. MS Word இன் கோப்பு நீழ்ச்சி (File extension) யாது?

- a. .txts b. .word c. .docs d. .docx

5.பின்வருவனவற்றில் எது margin வகை அல்ல

- a. Left b. Right c. Center d. Top

பின்வரும் குறுஞ்சாவிக்கான (Shortcuts) நிகழ்வுகளைத்தருக.

6. Ctrl + =

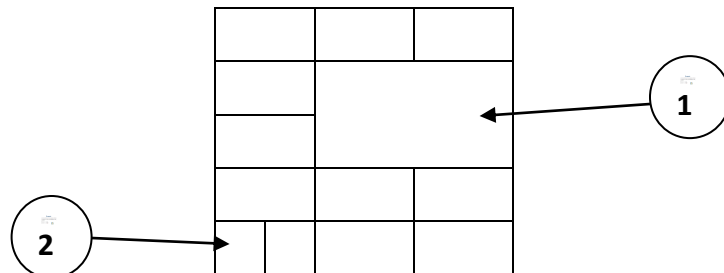
7. Ctrl + X

8. Ctrl + P

9. Ctrl + E

10. wins key + E

பின்வரும் அட்டவணையில் (வுயடிடந) குறித்த விடயங்களைக் குறிப்பிடுக.



பின்வரும் பகுதியில் இலக்கங்கள் குறிக்கும் விடயங்களைக் குறிக்க.

1 Documents

On the Insert tab, the galleries include items that are designed to coordinate with the overall look of your document. You can use these galleries to insert tables, headers, **footers**, lists, cover pages, and other document building blocks. When you create pictures, charts, or diagrams, they also **coordinate** with your current document look.

8

2

7

A	B	C


- School
- Factory
- Bus stand
- Harbour

6







3

5

4



பின்வரும் உறுப்புக்களின் பெயர்களைக் குறிப்பிடுக

- 
- 
- 
- 
- 
- 
- 